

MATEMATICO II - INGENIERIA - Segundo Parcial - 23 de Junio de 2016.

NOMBRE.....Comisión.....

Problema 1. (20)

a) Calcular la siguiente integral doble :

$$\iint_D (x - 7y) e^{(x-7y)(5x+y)} dx dy ; D = \left\{ (x, y) \in \mathbf{R}^2 : \frac{1}{7}x - \frac{1}{7} \leq y \leq \frac{1}{7}x \wedge -5x \leq y \leq 1 - 5x \right\}$$

b) Usar a) para probar que $\int_0^1 \left(\frac{x e^x - e^x + 1}{x^2} \right) dx = e - 2$

Problema 2. (20) Calcular el volumen (finito) del sólido $V \subset \mathbf{R}^3$ que está limitado por las superficies siguientes

$$S_1 = \left\{ (x, y, z) \in \mathbf{R}^3 : (x - 2z)^2 + y^2 - 4z = 0 \right\} \quad S_2 = \left\{ (x, y, z) \in \mathbf{R}^3 : x = 0 \right\}$$

Problema 3. (20) Hallar el valor de la siguiente integral curvilínea

$$\int_{C^+} \frac{-y}{x^2 + y^2} dx + \frac{x}{x^2 + y^2} dy \quad \text{donde } C = \left\{ (x, y) \in \mathbf{R}^2 : \frac{(x-1)^2}{a^2} + \frac{y^2}{b^2} = 1 \right\}$$

Ejercicio 4. (20) Dado el campo vectorial

$$\mathbf{F}(x, y, z) = f(y) \mathbf{I} + 2xf(y) \mathbf{J} + f(z) \mathbf{K}$$

donde $f(y)$ es una función escalar derivable, y C_1, C_2 son dos curvas en el plano cuyas respectivas parametrizaciones son

$$\mathbf{c}_1 = (a \cos 2\pi t, b \sin 2\pi t, t) \quad 0 \leq t \leq 1$$

$$\mathbf{c}_2 = (a \cos 2\pi t, 3b \sin 2\pi t, t^2) \quad 0 \leq t \leq 1$$

a) Hallar la expresión explícita de $f(y)$ para que se cumpla la siguiente igualdad :

$$\int_{C_1^+} \mathbf{F} = \int_{C_2^+} \mathbf{F}$$

b) Hallar el valor de $\int_{C_1^+} \mathbf{F}$

Ejercicio 5. (20) Dados los siguientes campos vectoriales

$$\mathbf{F}_1(x, y, z) = (xz - \frac{1}{2}z^2) \mathbf{I} + (yz + yx) \mathbf{J} + (\sin z^2) \mathbf{K}$$

$$\mathbf{F}_2(x, y, z) = (x - y - z) \mathbf{I} + (x^n e^{\sin(z)} + z) \mathbf{J} + (z + y - x) \mathbf{K}, \quad (n \in \mathbf{N})$$

calcular las siguientes integrales

$$\text{i) } \int_{C^+} \mathbf{F}_1 \quad \text{donde } C = \left\{ (x, y, z) \in \mathbf{R}^3 : x^2 + y^2 + z^2 = 2 \wedge x + y + z = 0 \right\}$$

$$\text{ii) } \int_{S_0^+} \mathbf{F}_2 \quad \text{donde } S_0 = \left\{ (x, y, z) \in \mathbf{R}^3 : x^2 + y^2 + z^2 = r^2 \wedge x - z \leq 0 \right\}$$

Resuelto

Agradecimientos a Juan Manuel Grosso, Francisco Rogé y Nahuel Pasano por sus tan respetuosas y precisas correcciones.

Problema 1 a) Se muestra una gráfica de la región

$$D = \{(x, y) \in \mathbf{R}^2 : \frac{1}{7}x - \frac{1}{7} \leq y \leq \frac{1}{7}x \wedge -5x \leq y \leq 1 - 5x\}$$

en la Figura 1. Como el integrando es la función

$$f : \mathbf{R}^2 \longrightarrow \mathbf{R}, \quad f(x, y) = (x - 7y)e^{(x-7y)(5x+y)}$$

resulta de especial importancia observar que la región puede expresarse de la siguiente manera.

$$D = \{(x, y) \in \mathbf{R}^2 : 0 \leq x - 7y \leq 1 \wedge 0 \leq 5x + y \leq 1\}$$

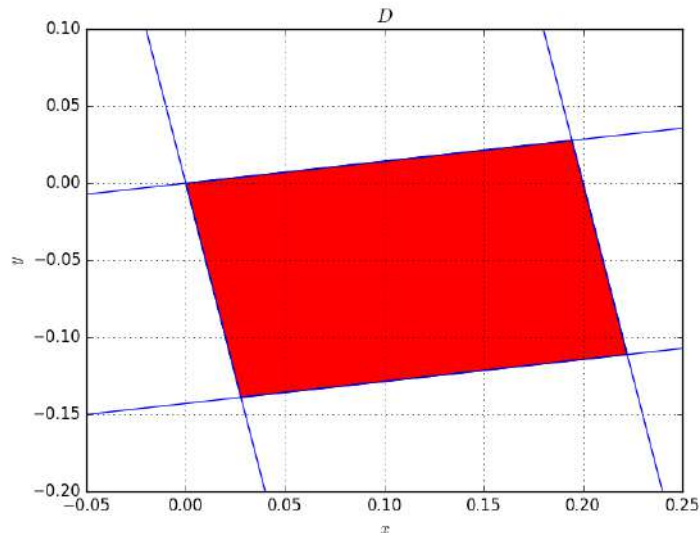


Figura 1: Gráfica de la región D .

De este modo, la transformación lineal necesaria para simplificar las cuentas salta a la vista casi de forma inmediata, definimos

$$T : \mathbf{R}^2 \longrightarrow \mathbf{R}^2, \quad T^{-1}(x, y) = (x - 7y, 5x + y)$$

designando $(u, v) = T^{-1}(x, y)$ la definición de la transformación nos permite expresarla en forma matricial así

$$\begin{bmatrix} 1 & -7 \\ 5 & 1 \end{bmatrix} \begin{bmatrix} x \\ y \end{bmatrix} = \begin{bmatrix} u \\ v \end{bmatrix} \iff \begin{bmatrix} x \\ y \end{bmatrix} = \underbrace{\begin{bmatrix} \frac{1}{36} & \frac{7}{36} \\ -\frac{5}{36} & \frac{1}{36} \end{bmatrix}}_{T(u,v)} \begin{bmatrix} u \\ v \end{bmatrix}$$

con lo cual

$$|\det [T'(u, v)]| = \left| \begin{array}{cc} \frac{1}{36} & \frac{7}{36} \\ -\frac{5}{36} & \frac{1}{36} \end{array} \right| = \frac{1}{36}$$

Además

$$T^{-1}(D) = \{(u, v) \in \mathbf{R}^2 : 0 \leq u \leq 1 \wedge 0 \leq v \leq 1\} = [0, 1] \times [0, 1]$$

región de la cual no voy a hacer la gráfica (¡¡hace falta que les dibuje un cuadrado???) , luego

$$\begin{aligned} I &= \iint_D f(x, y) dx dy = \iint_{T^{-1}(D)} f(T(u, v)) |\det [T'(u, v)]| du dv = \\ &= \frac{1}{36} \int_0^1 \int_0^1 ue^{uv} du dv. \end{aligned}$$

Se aplica el teorema de Fubini para calcular la integral. Si la hacemos en el orden en que quedó planteada

$$I = \frac{1}{36} \int_0^1 \left(\int_0^1 ue^{uv} du \right) dv = \frac{1}{36} \int_0^1 \left(\frac{ve^v - e^v + 1}{v^2} \right) dv$$

queda una integral impropia, entonces

$$\begin{aligned} I &= \lim_{\varepsilon \rightarrow 0^+} \left\{ \frac{1}{36} \int_{\varepsilon}^1 \left(\frac{ve^v - e^v + 1}{v^2} \right) dv \right\} = \\ &= \frac{1}{36} \lim_{\varepsilon \rightarrow 0^+} \left\{ \frac{e^v - 1}{v} \Big|_{\varepsilon}^1 \right\} = \frac{1}{36} \lim_{\varepsilon \rightarrow 0^+} \left\{ \frac{e - 1}{1} - \frac{e^{\varepsilon} - 1}{\varepsilon} \right\} = \quad (1) \\ &= \frac{1}{36} \left\{ e - 1 - \lim_{\varepsilon \rightarrow 0^+} \frac{e^{\varepsilon} - 1}{\varepsilon} \right\} = \frac{1}{36} \{e - 1 - 1\} = \frac{1}{36} \{e - 2\} \end{aligned}$$

Notemos que basta multiplicar la ecuación (1) por 36 miembro a miembro, para obtener la integral pedida en el punto b).

Quizás no muchos puedan encontrar esa primitiva tan fácilmente y resolver la impropia, así que abordaremos el problema de otra forma. Como el conjunto $T^{-1}(D)$ es un cuadrado, el teorema de Fubini nos permite permutar libremente el orden de integración sin ningún compromiso.

$$I = \frac{1}{36} \int_0^1 \left(\int_0^1 ue^{uv} dv \right) du = \frac{1}{36} \int_0^1 (e^u - 1) du = \frac{1}{36} (e - 2) \quad (2)$$

¡Listo! Evitamos así tanto la impropia, como la primitiva mística.

b) Cambiamos v por x en cualquiera de las relaciones (1) y (2),

$$\int_0^1 \left(\frac{xe^x - e^x + 1}{x^2} \right) dx = 36I = 36 \cdot \frac{1}{36} (e - 2) = e - 2$$

Pan comido.

Problema 2. Este sólido es difícil de ver en (x, y, z) . Para poder verlo primero definiremos una transformación T , que nos permita expresar la superficie en el espacio (u, v, w) , de manera que todo quede más sencillo.

Definiendo dicha transformación a partir de la inversa queda

$$T : \mathbf{R}^3 \longrightarrow \mathbf{R}^3, \quad T^{-1}(x, y, z) = (x - 2z, y, 4z)$$

designando $(u, v, w) = T^{-1}(x, y, z)$ se tiene

$$\begin{bmatrix} 1 & 0 & -2 \\ 0 & 1 & 0 \\ 0 & 0 & 4 \end{bmatrix} \begin{bmatrix} x \\ y \\ z \end{bmatrix} = \begin{bmatrix} u \\ v \\ w \end{bmatrix} \iff \begin{bmatrix} x \\ y \\ z \end{bmatrix} = \begin{bmatrix} 1 & 0 & \frac{1}{2} \\ 0 & 1 & 0 \\ 0 & 0 & \frac{1}{4} \end{bmatrix} \begin{bmatrix} u \\ v \\ w \end{bmatrix} = \underbrace{\begin{bmatrix} u + \frac{1}{2}w \\ v \\ \frac{1}{4}w \end{bmatrix}}_{T(u,v,w)}$$

con lo cual las superficies que delimitan al sólido son

$$\begin{aligned} T^{-1}(S_1) &= \{(u, v, w) \in \mathbf{R}^3 : u^2 + v^2 - w = 0\} \\ T^{-1}(S_2) &= \{(u, v, w) \in \mathbf{R}^3 : u + \frac{1}{2}w = 0\} \end{aligned}$$

y esta situación sí se puede visualizar, se trata del sólido delimitado por un paraboloides $T^{-1}(S_1)$ y un plano $T^{-1}(S_2)$. Se muestran las gráficas para cada espacio en la Figura 2.

En definitiva, sea V el sólido en (x, y, z) delimitado por S_1 y S_2 , tenemos

$$T^{-1}(V) = \{(u, v, w) \in \mathbf{R}^3 : u^2 + v^2 \leq w \leq -2u\}$$

La intersección entre las dos superficies da como resultado la curva plana

$$\begin{aligned} T^{-1}(S_1) \cap T^{-1}(S_2) &= \{(u, v, w) \in \mathbf{R}^3 : u^2 + v^2 - w = 0 \wedge u + \frac{1}{2}w = 0\} \\ &= \{(u, v, w) \in \mathbf{R}^3 : (u + 1)^2 + v^2 = 1 \wedge w = -2u\} \end{aligned}$$

cuya proyección sobre el plano (u, v) nos da la frontera de la región sobre la cual tenemos que calcular la integral.

$$D = \{(u, v) \in \mathbf{R}^2 : (u + 1)^2 + v^2 \leq 1\}$$

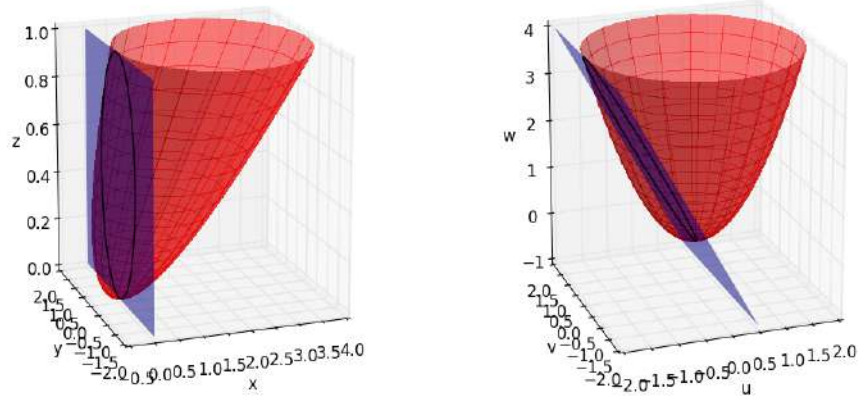


Figura 2: Gráficas de las superficies y la curvas intersección en los espacios (x, y, z) y (u, v, w) . De las mismas se desprende que T tuerce al espacio, manteniendo al eje y invariante.

No olvidemos el determinante de la transformación

$$|\det [T'(u, v, w)]| = \begin{vmatrix} 1 & 0 & \frac{1}{2} \\ 0 & 1 & 0 \\ 0 & 0 & \frac{1}{4} \end{vmatrix} = \frac{1}{4}$$

Con todo esto, planteamos

$$\begin{aligned} \text{vol}(V) &= \iiint_V dV = \iiint_{T^{-1}(V)} |\det [T'(u, v, w)]| \, du \, dv \, dw = \\ &= \iint_D \left[\int_{u^2+v^2}^{-2u} \frac{1}{4} \, dw \right] \, du \, dv = \frac{1}{4} \iint_D [(-2u) - (u^2 + v^2)] \, du \, dv = \\ &= \frac{1}{4} \iint_D [1 - (u+1)^2 - v^2] \, du \, dv \end{aligned}$$

Coordenadas polares + traslación:

$$S : (0, +\infty) \times (0, 2\pi) \longrightarrow \mathbf{R}^2, \quad S(\rho, \phi) = (\rho \cos \phi - 1, \rho \sin \phi)$$

como $|\det [S'(\rho, \phi)]| = \rho$ y $S^{-1}(D) = (0, 1] \times (0, 2\pi)$ queda

$$\text{vol}(V) = \frac{1}{4} \int_0^{2\pi} \int_0^1 [1 - \rho^2] \rho \, d\rho \, d\phi = \frac{\pi}{8}$$

Problema 3 Analizamos tres casos.

CASO I: $a < 1$, en este caso el campo queda definido sobre la región simplemente conexa $\text{int}(C)$. Es conservativo sobre ella, pues

$$\begin{aligned} & D_x \left(\frac{x}{x^2 + y^2} \right) - D_y \left(\frac{-y}{x^2 + y^2} \right) = \\ &= \frac{x^2 + y^2 - x(2x)}{(x^2 + y^2)^2} - \frac{(-1)(x^2 + y^2) - (-y)(2y)}{(x^2 + y^2)^2} = \frac{-x^2 + y^2}{(x^2 + y^2)^2} - \frac{-x^2 + y^2}{(x^2 + y^2)^2} = 0 \end{aligned} \quad (3)$$

por lo tanto

$$\int_{C^+} \frac{-y}{x^2 + y^2} dx + \frac{x}{x^2 + y^2} dy = 0$$

CASO II: $a = 1$, la singularidad del campo $(0, 0)$ yace sobre la curva.

El análisis de este caso es muy difícil, en el examen bastaba con explicar la situación que impone la condición $a = 1$. No obstante, dejo en un apartado la resolución, para el que desee leerlo.

CASO III: $a > 1$, en este caso la curva *encierra* la singularidad, y por lo tanto no podemos aplicar directamente el teorema de Green.

Lo que sí podemos hacer es construir una circunferencia de radio R muy chiquitito, $x^2 + y^2 = R^2$ (o muy grande), lo suficiente como para que no haya intersección con la elipse C .

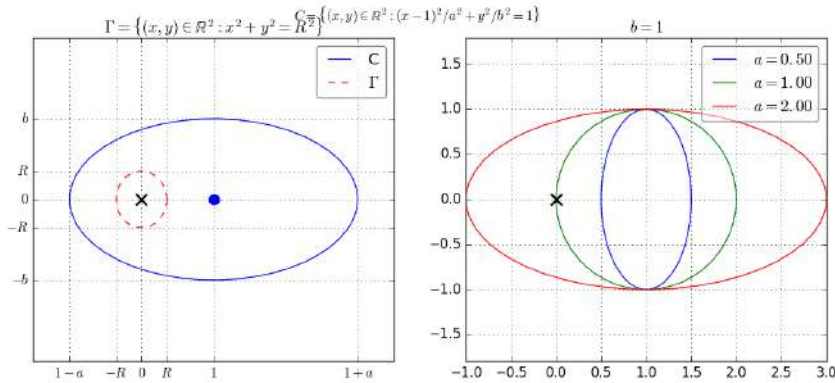


Figura 3: Gráficas de (izquierda) la circunferencia creada para saltar el punto de conflicto y (derecha) la elipse C para distintos valores de a . Se representa al punto de conflicto con una cruz \times .

Aplicamos la extensión del teorema de Green, sea Γ^- la circunferencia que acabamos de crear (ver Figura 3), recorrida en sentido horario, teniendo

en cuenta (3) se deduce

$$\int_{C^+ \cup \Gamma^-} \frac{-y}{x^2 + y^2} dx + \frac{x}{x^2 + y^2} dy = 0$$

$$\int_{C^+} \frac{-y}{x^2 + y^2} dx + \frac{x}{x^2 + y^2} dy = \int_{\Gamma^+} \frac{-y}{x^2 + y^2} dx + \frac{x}{x^2 + y^2} dy$$

La razón por la cual Γ es una circunferencia y no un cuadrado por ejemplo, es que el campo queda RE FÁCIL con la curva elegida. En la fórmula obtenida se ve que es muy conveniente construir una parametrización positiva de Γ , así lo hacemos:

$$\gamma : [0, 2\pi] \longrightarrow \mathbf{R}^2, \quad \gamma(t) = (R \cos t, R \sin t)$$

entonces

$$\int_{\Gamma^+} \frac{-y}{x^2 + y^2} dx + \frac{x}{x^2 + y^2} dy =$$

$$= \int_0^{2\pi} \left\{ \frac{(-R \sin t)(-R \sin t)}{R^2} + \frac{(R \cos t)(R \cos t)}{R^2} \right\} dt = \int_0^{2\pi} dt = 2\pi.$$

Este es el valor de la integral pedida. Más bello, imposible.

Ejercicio 4. a) Nos piden que la integral no dependa del camino, una condición suficiente para ello es que $\text{rot}(\mathbf{F}) = (0,0,0)$.

Calculando el rotor se ve que tiene que cumplirse $2f(y) - f'(y) = 0$, la solución general es

$$\frac{f'(y)}{f(y)} = 2 \iff (\ln |f(y)|)' = (2y)' \iff \ln |f(y)| = 2y + c$$

o bien $f(y) = Ce^{2y}$, siendo $C = e^c$, lo cual es equivalente. Para todas estas f el campo

$$\mathbf{F}(x, y, z) = (Ce^{2y}, 2Cxe^{2y}, Ce^{2z})$$

es conservativo, y por lo tanto cumple que

$$\int_{C_1^+} \mathbf{F} = \int_{C_2^+} \mathbf{F}$$

pues C_1 y C_2 son trayectorias con iguales puntos de partida y llegada,

$$\mathbf{c}_1(0) = (a, 0, 0) = \mathbf{c}_2(0), \quad \mathbf{c}_1(1) = (a, 0, 1) = \mathbf{c}_2(1)$$

b) Como \mathbf{F} es conservativo, es un campo de gradientes, lo cual implica que existe una función escalar $\phi : \mathbf{R}^3 \rightarrow \mathbf{R}$ tal que $\nabla\phi = \mathbf{F}$.

$$\begin{aligned}\phi(x, y, z) &= \int_0^x (Ce^{2y}) dt + \int_0^y (2C \cdot 0 \cdot e^{2t}) dt + \int_0^z (Ce^{2t}) dt + D = \\ &= Cxe^{2y} + \frac{1}{2}Ce^{2z} + D\end{aligned}$$

luego, en virtud del teorema fundamental del cálculo, se tiene

$$\begin{aligned}\int_{C_1^+} \mathbf{F} &= \int_{(a,0,0)}^{(a,0,1)} \phi'(x, y, z) = \phi(a, 0, 1) - \phi(a, 0, 0) = \\ &= (Ca + \frac{1}{2}Ce^2) - (Ca + \frac{1}{2}C) = \frac{1}{2}C(e^2 - 1)\end{aligned}$$

Ejercicio 5. i) Probamos que la curva es cerrada.

$$z = -x - y \implies x^2 + y^2 + (-x - y)^2 = 2 \iff x^2 + xy + y^2 = 1$$

La curva intersección C es una elipse rotada, que está contenida en el plano $x + y + z = 0$.

Por si no me creen que es una elipse...

$$x^2 + xy + y^2 = 1 \iff \left(x + \frac{1}{2}y\right)^2 + \frac{3}{4}y^2 = 1 \iff \begin{cases} x = \cos t - \frac{1}{\sqrt{3}}\sin t \\ y = \frac{2}{\sqrt{3}}\sin t \end{cases}$$

La curva es cerrada y simple: existe al menos una superficie que la tiene como borde. A simple vista, hay tres superficies posibles, las cuales se deducen de la misma definición de C como curva intersección. En un gran esfuerzo de producción, se confeccionó la gráfica que se exhibe en la Figura 4, como para que puedan *ver* esta situación.

$$\begin{aligned}A &= \{(x, y, z) \in \mathbf{R}^3 : x^2 + y^2 + z^2 \leq 2 \wedge x + y + z = 0\} = \\ &= \{(x, y, z) \in \mathbf{R}^3 : x^2 + xy + y^2 \leq 1 \wedge z = -x - y\} \\ B &= \{(x, y, z) \in \mathbf{R}^3 : x^2 + y^2 + z^2 = 2 \wedge x + y + z \leq 0\} = \\ &= \{(x, y, z) \in \mathbf{R}^3 : x^2 + y^2 + z^2 = 2 \wedge z \leq -x - y\} \\ \Gamma &= \{(x, y, z) \in \mathbf{R}^3 : x^2 + y^2 + z^2 = 2 \wedge z \geq -x - y\}\end{aligned}$$

Nos guardamos bajo la manga los vectores normales a las superficies, hay básicamente dos distintos

$$\mathbf{n}_A = (1, 1, 1) \tag{4}$$

$$\mathbf{n}_B = \mathbf{n}_\Gamma = (2x, 2y, 2z) \tag{5}$$

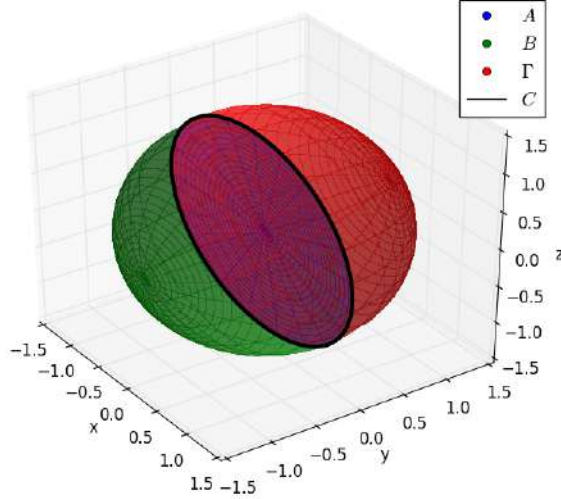


Figura 4: Gráfica de la curva C , junto con distintas superficies que la tienen como frontera.

Elegimos uno a partir del

$$\text{rot}(\mathbf{F}_1) = (-y, x - z, y) \quad (6)$$

¿se ve lo que pasa? Calculando el producto escalar con (5) y (6) queda

$$\text{rot}(\mathbf{F}_1) \cdot \mathbf{n}_B = (2x)(-y) + (2y)(x - z) + (2z)(y) = -2xy + 2xy - 2yz + 2yz = 0$$

¡o sea que listo el pollo! Ni siquiera tenemos que preocuparnos por la región de integración. Aplicando el teorema de Stokes, queda

$$\begin{aligned} \int_{C^+} \mathbf{F}_1 &= \int_B \text{rot}(\mathbf{F}_1) = \int_B \text{rot}(\mathbf{F}_1) \cdot \frac{\mathbf{n}_B}{\|\mathbf{n}_B\|} dB = \\ &= \int_B \underbrace{(\text{rot}(\mathbf{F}_1) \cdot \mathbf{n}_B)}_0 \frac{1}{\|\mathbf{n}_B\|} dB = 0. \end{aligned}$$

ii) La superficie S_0 es abierta, su frontera es la curva

$$\begin{aligned} \partial S_0 &= \{(x, y, z) \in \mathbf{R}^3 : x^2 + y^2 + z^2 = r^2 \wedge x - z = 0\} \\ &= \{(x, y, z) \in \mathbf{R}^3 : 2x^2 + y^2 = r^2 \wedge z = x\} = \\ &= \left\{ \left(\frac{1}{\sqrt{2}}r \cos t, r \sin t, \frac{1}{\sqrt{2}}r \cos t \right) : 0 \leq t \leq 2\pi \right\} \end{aligned}$$

Por lo tanto no podemos aplicar el teorema de la divergencia, a menos que construyamos la tapa que permite cerrar a la superficie. Dicha tapa no es otra que $T = \text{int}(\partial S_0) = \{(x, y, z) \in \mathbf{R}^3 : 2x^2 + y^2 \leq r^2 \wedge z = x\}$.

Ahora sí, la superficie $S_0 \cup T$ es cerrada y delimita un sólido, que llamaremos $V = \text{int}(S_0 \cup T)$. El teorema de Gauss ahora SÍ puede aplicarse:

$$\int_{(S_0 \cup T)^+} \mathbf{F}_2 = \iiint_V \text{div}(\mathbf{F}_2) dV$$

La divergencia es $\text{div}(\mathbf{F}_2) = 2$, con lo cual la fórmula se reduce a

$$\int_{(S_0 \cup T)^+} \mathbf{F}_2 = 2 \text{vol}(V) \quad (7)$$

El sólido V consiste en el interior de una esfera de radio r partida exactamente a la mitad, pues el plano que la corta pasa por su centro. Luego

$$\text{vol}(V) = \frac{1}{2} \cdot \frac{4}{3} \pi r^3 = \frac{2}{3} \pi r^3$$

por lo tanto (7) queda

$$\int_{(S_0 \cup T)^+} \mathbf{F}_2 = \frac{4}{3} \pi r^3$$

para calcular la integral pedida acudimos a la propiedad aditiva de la integral, queda

$$\int_{S_0^+} \mathbf{F}_2 + \int_T \mathbf{F}_2 = \frac{4}{3} \pi r^3 \iff \int_{S_0^+} \mathbf{F}_2 = \frac{4}{3} \pi r^3 - \int_T \mathbf{F}_2 \quad (8)$$

Atención con el vector normal de la tapa T . Este debe apuntar hacia afuera de la superficie $S_0 \cup T$, para que se lo imaginen, es como que el vector no tiene que “pinchar” el sólido V , cuando su punto base se encuentra sobre la referida superficie. Es como si tuviera un globo y apoyara un alfiler sobre él, en esta analogía el punto base del vector normal vendría a ser la base del alfiler (por donde se lo agarra) y el extremo, el filo, que es lo que pincha. Si yo apoyo el alfiler sobre el globo, cuando el alfiler apunta hacia el interior del globo, el globo revienta, y en este caso no me interesa que reviente nada.

Hay dos vectores normales posibles para T , en cartesianas por ejemplo son el $\mathbf{n}_T = (1, 0, -1)$ y su opuesto. Como de las definiciones de S_0 y T , se deduce que la tapa T está cerrando a la esfera S_0 *por debajo*, el vector normal correcto para los cálculos es el $\mathbf{n}_T = (1, 0, -1)$ (apunta para abajo).

$$S_0 = \{(x, y) \in \mathbb{R}^3 : x^2 + y^2 + z^2 = r^2 \wedge x - z \leq 0\}$$

$$T = \{(x, y) \in \mathbb{R}^3 : 2x^2 + y^2 \leq r^2 \wedge x - z = 0\}, \quad \mathbf{n}_T = (1, 0, -1)$$

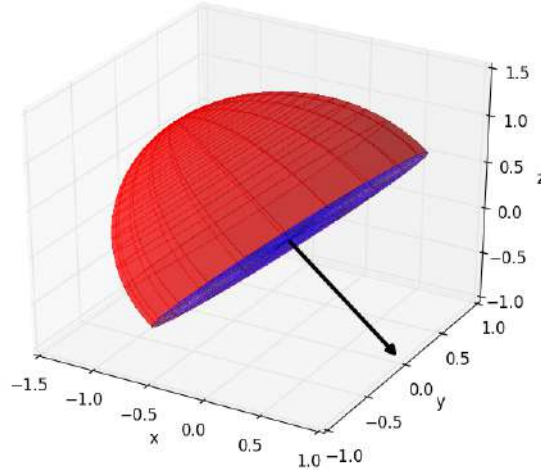


Figura 5: Gráfica de las superficies y vector normal, apuntando hacia afuera.

Por si se si hacen lío, les dejo la Figura 5 para que se “orienten”, cual vector normal a una superficie.

Entendido el proceso de elección del vector normal, pasamos a calcular la integral, sea $D = \{(x, y) \in \mathbb{R}^2 : 2x^2 + y^2 \leq r^2\}$,

$$\begin{aligned} \int_T \mathbf{F}_2 &= \iint_D \mathbf{F}_2(x, y, x) \cdot \mathbf{n}_T dx dy = \\ &= \iint_D (-y, x^n e^{\sin x} + x, y) \cdot (1, 0, -1) dx dy = \iint_D (-2y) dx dy = \\ &= -2 \iint_D y dx dy \end{aligned}$$

Coordenadas polares + homotecia:

$$T : (0, +\infty) \times (0, 2\pi) \longrightarrow \mathbf{R}^2, \quad T(\rho, \phi) = \left(\frac{1}{\sqrt{2}}\rho \cos \phi, \rho \sin \phi \right)$$

queda $|\det[T'(\rho, \phi)]| = \frac{1}{\sqrt{2}}\rho$ y $T^{-1}(D) = (0, r] \times (0, 2\pi)$, con lo cual

$$\int_T \mathbf{F}_2 = -\frac{2}{\sqrt{2}} \int_0^{2\pi} \int_0^r \rho^2 \sin \phi d\rho d\phi = -\sqrt{2} \left(\int_0^{2\pi} \sin \phi d\phi \right) \left(\int_0^1 \rho^2 d\rho \right) = 0$$

finalmente, introduciendo el resultado en (8), se tiene

$$\int_{S_0^+} \mathbf{F}_2 = \frac{4}{3} \pi r^3$$

Espero que les sirva.

Fede.

A todo aquel que le interese ampliar: Una parametrización de la elipse C del **Problema 3** para $a = 1$ es

$$\mathbf{c} : [0, 2\pi] \longrightarrow \mathbf{R}^2, \quad \mathbf{c}(t) = (\cos t + 1, b \sin t)$$

pero $\mathbf{c}(\pi) = (0, 0)$ ¡este es el punto de indefinición! En rigor, deberíamos tomar a la curva como unión de dos arcos $C = C_1 \cup C_2$ tales que

$$\begin{aligned} \forall t \in [0, \pi - \varepsilon_1], \quad \text{Im}(\mathbf{c}) &= C_1, \\ \forall t \in [\pi + \varepsilon_2, 2\pi], \quad \text{Im}(\mathbf{c}) &= C_2, \end{aligned}$$

y analizar la convergencia de la integral

$$\int_{C^+} \mathbf{F} = \lim_{\varepsilon_1 \rightarrow 0^+} \int_{C_1} \mathbf{F} + \lim_{\varepsilon_2 \rightarrow 0^+} \int_{C_2} \mathbf{F}$$

donde se denota al campo como $\mathbf{F}(x, y) = \left(\frac{-y}{x^2+y^2}, \frac{x}{x^2+y^2} \right)$. Esto es necesario, porque no sabemos lo que sucede con la integral en el punto $(0, 0)$.

Calculamos

$$\begin{aligned} x^2 + y^2 \Big|_{\substack{x=\cos t+1 \\ y=b \sin t}} &= \cos^2 t + 2 \cos t + 1 + b^2 \sin^2 t = \\ &= (1 - b^2) \cos^2 t + 2 \cos t + (1 + b^2) \end{aligned}$$

es un polinomio de segundo grado en $\cos t$, designando $u = \cos t$, $P(u)$ al polinomio, entonces

$$P(u) = (1 - b^2) u^2 + 2u + (1 + b^2)$$

sabemos que una raíz es $t = \pi \implies u = \cos(\pi) = -1$ es raíz, por lo tanto es válida la factorización siguiente por la regla de Ruffini:

$$P(u) = (u + 1) [(1 - b^2) u + (1 + b^2)]$$

cuestión que queda

$$\mathbf{F}[\mathbf{c}(t)] = \left(\frac{-b \sin t}{P(\cos t)}, \frac{\cos t + 1}{P(\cos t)} \right)$$

como $\mathbf{c}'(t) = (-\sin t, b \cos t)$ se deduce que

$$\begin{aligned} \mathbf{F}[\mathbf{c}(t)] \cdot \mathbf{c}'(t) &= \frac{b \sin^2 t + b \cos^2 t + b \cos t}{P(\cos t)} = \frac{b \cdot (1 + \cos t)}{P(\cos t)} = \\ &= \frac{b}{(1 - b^2) \cos t + (1 + b^2)} \end{aligned}$$

La primitiva de $\frac{b}{(1-b^2)\cos t+(1+b^2)}$ puede calcularse a partir de la sustitución trigonométrica $z = \tan\left(\frac{1}{2}t\right)$, porque

$$t = 2 \arctan z \implies dt = \frac{2}{1+z^2} dz \quad \wedge \quad \cos t = \frac{1 - \tan^2\left(\frac{1}{2}t\right)}{1 + \tan^2\left(\frac{1}{2}t\right)} = \frac{1 - z^2}{1 + z^2}$$

con lo cual queda la integral de una función racional de z :

$$\begin{aligned} \int \mathbf{F}[\mathbf{c}(t)] \cdot \mathbf{c}'(t) dt &= \int \frac{b}{(1-b^2)\cos t + (1+b^2)} dt = \\ &= b \int \frac{\left(\frac{2}{1+z^2}\right)}{(1-b^2)\left(\frac{1-z^2}{1+z^2}\right) + (1+b^2)} dz = \\ &= b \int \frac{2}{(1-b^2)(1-z^2) + (1+b^2)(1+z^2)} dz = \\ &= b \int \frac{2}{2+2b^2z^2} dz = b \int \frac{1}{1+(bz)^2} dz = \\ &= b \arctan(bz) + C = b \arctan\left[b \tan\left(\frac{1}{2}t\right)\right] + C. \end{aligned}$$

Aplicando el teorema fundamental del cálculo en las integrales sobre C_1 y C_2 tenemos

$$\begin{aligned} \int_{C_1} \mathbf{F} &= \lim_{\varepsilon_1 \rightarrow 0^+} \int_0^{\pi-\varepsilon_1} \mathbf{F}[\mathbf{c}(t)] \cdot \mathbf{c}'(t) dt = \\ &= b \lim_{\varepsilon_1 \rightarrow 0^+} \arctan\left[b \tan\left(\frac{1}{2}(\pi - \varepsilon_1)\right)\right] = \frac{1}{2}b\pi \end{aligned}$$

análogamente se tiene

$$\begin{aligned} \int_{C_2} \mathbf{F} &= \lim_{\varepsilon_2 \rightarrow 0^+} \int_{\pi+\varepsilon_2}^{2\pi} \mathbf{F}[\mathbf{c}(t)] \cdot \mathbf{c}'(t) dt = \\ &= -b \lim_{\varepsilon_2 \rightarrow 0^+} \arctan\left[b \tan\left(\frac{1}{2}(\pi + \varepsilon_2)\right)\right] = \frac{1}{2}b\pi \end{aligned}$$

por lo tanto

$$\int_{C^+} \mathbf{F} = \lim_{\varepsilon_1 \rightarrow 0^+} \int_{C_1} \mathbf{F} + \lim_{\varepsilon_2 \rightarrow 0^+} \int_{C_2} \mathbf{F} = b\pi.$$

Contra todo lo esperado ¡¡la integral converge!!